

NÁRODNÍ PEDAGOGICKÝ INSTITUT ČR

ÚSTŘEDNÍ KOLO 51. ROČNÍKU DĚJEPISNÉ OLYMPIÁDY

„Šlechta od konce raného středověku do roku 1648“

2021/2022

PÍSEMNÁ PRÁCE NA TÉMA:

„Šlechtický rod v mém regionu“

Název práce: Krátká historie rodu Pernštejnů na Valašskomeziříčsku

Zpracoval: Vojtěch Dorotík

**Adresa školy: Gymnázium Františka Palackého Valašské Meziříčí,
Husova 146, 757 01 Valašské Meziříčí**

Ročník: 2022

Kraj: Zlínský

Obsah

Úvod.....	3
1 Jan IV. z Pernštejna zvaný Bohatý	3
2 Působení Jana IV. z Pernštejna na meziříčském a krásensko-rožnovském panství.....	4
Závěr.....	4
3 Bibliografie	5
Přílohy	6

Úvod

Valašské Meziříčí má bohatou historii, v níž se vystřídal mnoho šlechtických majitelů. Jeden z rodů vlastnil panství krátce, přesto vnesl do města řadu změn. Jeho čelnou osobností byl přední nekatolický velmož a politik českého království Jan IV. z Pernštejna (1487-1548). Při shromažďování informací jsem se setkal s památkářem města Valašského Meziříčí Mgr. Petrem Zajícem a s Mgr. Janem Anlaufem, archeologem a kastelánem zámku Žerotínů. Během diskuse a prohlídky zámecké expozice mi byla doporučena odborná literatura, například kniha Petra Vorla „*Páni z Pernštejna: Vzestup a pád rodu zubří hlavy v dějinách Čech a Moravy*“. V práci sleduji osudy Jana IV. z Pernštejna a proměny rožnovsko-krásenského a meziříčského panství s ohledem na to, jak se v nich promítly plány, ambice i neúspěchy tohoto významného politika.

1 Jan IV. z Pernštejna zvaný Bohatý

Jan pocházel ze starobylého moravského šlechtického rodu, už jeho otec Vilém II. z Pernštejna (1435-1521) zastával významné zemské úřady. Prvorozený Jan, který původně sídlil na Tovačově, získal v 19 letech funkci nejvyššího komorníka zemského soudu v Brně a brzy se stal nejvyšším moravským hejtmanem. V roce 1521 zdědil perňštejnské statky na Moravě, jeho mladší bratr Vojtěch obdržel majetky v Čechách. Jan si zvolil přídomek „na Helfenštejně“, reprezentativním sídlem se však stal nově vybudovaný zámek v Prostějově. Během 20. a 30. let rozšiřoval moravské dominium. V roce 1534 po smrti bratra Vojtěcha zdědil i državy v Čechách a stal se největším pozemkovým magnátem království. (1)

Zažil dva krále: Ludvíka Jagellonského (1516 – 1526) a Ferdinanda I. (1526 – 1564). Jako politik si byl vědom tureckého nebezpečí a do smrti litoval, že jeho vojenský kontingent, nejpočetnější součást moravské zemské hotovosti mířící k Moháči, nedorazil do bitvy včas. Po nástupu Ferdinanda I. Habsburského se postavil do čela nekatolické opozice. Mezi oběma muži panovalo napětí, ale i vědomí toho, že se vzájemně potřebují. Jan odváděl do královské pokladny vysoké berně, poskytoval panovníkovi půjčky a financoval vojsko proti Turkům. Jeho návrh na sjednocení českých nekatolíků do jedné církve (1543) byl Ferdinandem odmítnut. Poslední významnou roli sehrál Jan jako muž kompromisu v českém stavovském odboji roku 1547. Po porážce stavů se stal prostředníkem mezi rozezleným králem a odbojnou šlechtou s královskými městy. Dlouholetý vůdce opozice Jan, skončil nakonec na straně Habsburků, i když mu to žádné velké zisky nepřineslo. (1)

Oslabení Jana z Pernštejna ve 40. letech ovlivnily hospodářské problémy. Finanční podpora krále přinášela výrazně více výdajů než zisku, vše zhoršilo rozhodnutí zemského sněmu snížit úroky při půjčování peněz z 10 % na 6 %. Zisky věřitelů a ochota půjčovat klesly a příliv peněz pro velké

pozemkové vlastníky zeslábl. Jan řešil problémy podporou podnikání (rybníkářství a pivovarnictví) i třetím sňatkem s bohatou uherskou šlechtičnou. Přesto musel po roce 1543 rozprodávat panství a také omezil své politické aktivity. Zemřel v září 1548 v 61 letech v Hrušovanech na jižní Moravě. (1)

2 Působení Jana IV. z Pernštejna na meziříčském a krásensko-rožnovském panství

Jan IV. z Pernštejna koupil roku 1534 panství rožnovsko-krásenské (dědičný statek), meziříčské (lenní statek) a vsetínské (zpupný statek). Centrum krásensko-rožnovského panství, hrad Rožnov, začal být modernizován. Byla zde například instalována kachlová kamna zvaná rytířská, znak bohatství a luxusu renesanční doby. Nový vlastník a jeho úředníci však brzy pochopili, že zastaralý hrad už nevyhovuje ani z hlediska umístěním v rámci panství. Dochovaná korespondence dokládá Janovu žádost králi, aby mohl být „nadbytečný“ hrad zbořen a v Meziříčí aby byl postaven nový zámek. Demolice proběhla na příkaz Ferdinanda I. roku 1539, význam Rožnova poklesl a novým politickým a hospodářským centrem se stalo město Meziříčí, které spojovalo tři panství – rožnovské, vsetínské a meziříčské. (2)

Nový, podnikavý a bohatý majitel podnítil významné změny. Roku 1538 začala v Meziříčí stavba renesančního zámku. Zároveň byla na popud měšťanů zahájena výstavba městských hradeb (1538 – 1559). Pernštejn také prosadil spojení obou sídel, přičemž Krásno se stalo pouhým meziříčským předměstím. Pernštejnové ovlivnili i podobu centra města prosazováním výměny dřevěnic za renesanční zděné domy. Vznikly rovněž nové cechy, například ševcovský a kovářský. Zadlužení perštejnského majetku a rozprodeje se však nakonec dotkly i Meziříčí. Meziříčské a krásensko-rožnovské panství bylo nejprve zastaveno (1547) a později prodáno Vilémovi ze Žerotína, vsetínské panství koupili bratři Nekšové z Landeka. (2)

Závěr

Díky této práci jsem pochopil význam rodu Pernštejnů a poznal zajímavou část historie mého města. Jan IV. z Pernštejna byl respektovaný politik a nejmocnější muž, kterému kdy Meziříčí patřilo.

Měl velké plány, které nebylo snadné zrealizovat v době nástupu Habsburků na český trůn, v prostředí nejednotných českých stavů a hospodářských obtíží. Ve své době také posílil význam Meziříčí. I proto si tohoto šlechtice velmi vážím. Doufám, že moje práce, která bude zveřejněna na stránkách školy, zaujme i další studenty. Naše historie je jedinečná a zabývat se jí nám přináší nemalé radosti.

Bibliografie

1. **VOREL, Petr.** *Páni z Pernštejna: Vzestup a pád rodu zubří hlavy v dějinách Čech a Moravy.* Třetí. Praha: Rybka Publishers, 2021. ISBN 978-80-87950-91-3.
2. **BALETKA, Ladislav, Tomáš BALETKA, Eva ČERMÁKOVÁ a Zdeněk POMKLA.** *Valašské Meziříčí.* Praha: Nakladatelství Lidové noviny, 2017. ISBN 978-80-7422-575-8.
3. **ANLAUF, Jan a ZAJÍC, Petr.** Komentovaná prohlídka expozice Zámecké patro v zámku Žerotínů ve Valašském Meziříčí. Valašské Meziříčí : Dorotík, Vojtěch, 13. dubna 2022.
4. **NEKUDA, Vladimír, ed.** *Okres Vsetín: Rožnovsko - Valašskomeziříčsko - Vsetínsko.* Vlastivěda moravská. Řada topografická. Valašské Meziříčí : Hvězdárna Valašské Meziříčí, 2002. Sv. 68. ISBN 80-7275-024-0.
5. **ANLAUF, Jan.** *Z dějin zámku Žerotínů: Hrad Rožnov* [online]. 10. 5. 2021 [cit. 2022-05-03]. Dostupné z:
<https://www.youtube.com/watch?v=zjf0oXiKzD8&list=PLlfshO8k20BFhzMdi6kqnInxyP7jb4Al&index=1>
6. **ANLAUF, Jan.** *Z dějin zámku Žerotínů: Zdi které pamatují staletí* [online]. 10 . 5. 2021 [cit. 2022-03] Dostupné z: <https://www.youtube.com/watch?v=5YdxezGrp-g&list=PLlfshO8k20BFhzMdi6kqnInxyP7jb4Al&index=2>
7. *Hrad Pernštejn.* In: *Wikipedia: the free encyclopedia* [online]. San Francisco (CA): Wikimedia Foundation, 2001- [cit. 2022-05-04]. Dostupné [https://cs.wikipedia.org/wiki/Pern%C5%A1tejn_\(hrad\)#/media/Soubor:Hrad_Pern%C5%A1tejn.jpg](https://cs.wikipedia.org/wiki/Pern%C5%A1tejn_(hrad)#/media/Soubor:Hrad_Pern%C5%A1tejn.jpg)
8. *Zámek Tovačov.* In: *KULTURA.CZ* [online]. [cit. 2022-05-04]. Dostupné z: <http://www.kultura.cz/profile/5792-zamek-tovacov>
9. *Zámek Prostějov.* In: *Kudy z nudy* [online]. [cit. 2022-05-04]. Dostupné z: <https://www.kudyznudy.cz/aktivity/prostejovsky-zamek>
10. *Hrad Helfštýn.* In: *Hrady* [online]. [cit. 2022-05-04]. Dostupné z: <https://hrady.webgarden.cz/rubriky/h/helfstejn/pudorys>
11. *Hrad Arnoltovice.* In: *HRADY.CZ* [online]. [cit. 2022-05-04]. Dostupné z: <https://www.hrady.cz/hrad-arnoltovice-policna-u-valasskeho-mezirici>

Přílohy

Příloha číslo 1 Pracovní list

1. Úkol – odpovězte na otázky:

- Rod Pernštejnů pochází

A) z Čech B) z Moravy C) ze Slezska

- Jan IV. z Pernštejna zastával funkci

A) purkrabího B) nejvyššího moravského hejtmána C) kastelána hradu Rožnov

- Jako reprezentační moravské sídlo si Jan IV. z Pernštejna zvolil

A) Prostějov B) Vsetín C) městečko Krásno

- Jan IV. z Pernštejna zažil významnou událost, která výrazně ovlivnila vývoj v českých zemích:

A) úmrtí svého otce B) zboření hradu Rožnov C) nástup Habsburků na český trůn

- V textu jsou zmíněna tři sousední panství: krásensko-rožnovské, vsetínské a meziříčské. Které z nich se stalo novým politickým a hospodářským centrem?

A) meziříčské B) vsetínské C) krásensko-rožnovské

2. Úkol - ANO/NE

Jan IV. z Pernštejna

- Zdědil po otci Vilémovi celé perňštejnské dominium.
- Osobně se účastnil tragické bitvy u Moháče.
- Byl věrný katolík.
- Významně se podílel na formování zemské hotovosti do boje proti Turkům.
- Rozhodnutí zemského sněmu o snížení úroků při půjčování peněz zhoršilo finanční obtíže Jana z Pernštejna.
- Zemřel v cizině na bojišti.

3. Úkol – najděte v následujícím textu 7 chyb:

Jan IV. z Pernštejna koupil roku 1534 panství vsetínské, rožnovsko-krásenské a tovačovské. Centrem panství byl původně zámek Rožnov, později hrad v Meziříčí. Bohatě zdobená kachlová kamna v sídle Žerotínů byla znakem bohatství a luxusu barokní doby. Pernštejnové ovlivnili i podobu centra města Meziříčí prosazováním výměny měšťanských domů za letní sídla. Prodej zdejšího panství kvůli zadlužení perňštejnského majetku se nikdy neuskutečnil.

4. Úkol – přesmyčky a popis obrázku

V přesmyčkách se ukrývají tři slova, která souvisí s působením Pernštejnů na meziříčském panství. Který z těchto pojmů zobrazuje v mapce tvar zakreslený šedou linkou? Zakroužkujte ho.

DARHYB

COVEŠVKÝS CHEC


SANENERČÍN MÁKEZ



5. Úkol – přemýšlej:

A Zkus odhadnout, zda byli s působením Pernštejnů více spokojeni obyvatelé města Meziříčí nebo městečka Krásna. Vysvětli svůj názor.

B S erbem Pernštejnů souvisí pověst. Podle obrázku zkus vysvětlit, jak vznikl erb rodu.



Příloha číslo 2 Pracovní list s řešením

1. Úkol – odpovězte na otázky:

- Rod Pernštejnů pochází

A) z Čech B) z Moravy C) ze Slezska

- Jan IV. z Pernštejna zastával funkci

A) purkrabího B) nejvyššího moravského hejtmána C) kastelána hradu Rožnov

- Jako reprezentační moravské sídlo si Jan IV. z Pernštejna zvolil

A) Prostějov B) Vsetín C) městečko Krásno

- Jan IV. z Pernštejna zažil významnou událost, která výrazně ovlivnila vývoj v českých zemích:

A) úmrtí svého otce B) zboření hradu Rožnov C) nástup Habsburků na český trůn

- V textu jsou zmíněna tři sousední panství: krásensko-rožnovské, vsetínské a meziříčské. Které z nich se stalo novým politickým a hospodářským centrem?

A) meziříčské B) vsetínské C) krásensko-rožnovské

2. Úkol - ANO/NE

Jan IV. z Pernštejna

- Zdědil po otci Vilémovi celé perňštejnské dominium. **NE**
- Osobně se účastnil tragické bitvy u Moháče. **NE**
- Byl věrný katolík. **NE**
- Významně se podílel na formování zemské hotovosti do boje proti Turkům. **ANO**
- Rozhodnutí zemského sněmu o snížení úroků při půjčování peněz zhoršilo finanční obtíže Jana z Pernštejna. **ANO**
- Zemřel v cizině na bojišti. **NE**

3. Úkol – najděte v následujícím textu 7 chyb (slova i slovní spojení):

Jan IV. z Pernštejna koupil roku 1534 panství vsetínské, rožnovsko-krásenské a **tovačovské**. Centrem panství byl původně **zámek** Rožnov, později **hrad** v Meziříčí. Bohatě zdobená kachlová kamna v sídle **Žerotínů** byla znakem bohatství a luxusu **barokní** doby. Pernštejnové ovlivnili i podobu centra města Meziříčí prosazováním výměny **měšťanských domů** za **letní sídla**. Prodej zdejšího panství kvůli zadlužení perňštejnského majetku se **nikdy neuskutečnil**.

4. Úkol – přesmyčky a popis obrázku

V přesmyčkách se ukrývají tři slova, která souvisí s působením Pernštejnů na meziříčském panství. Který z těchto pojmů zobrazuje v mapce tvar zakreslený šedou linkou? Zakroužkujte ho.

DARHYB

COVEŠVKÝS CHEC

SANENERČÍN MÁKEZ

HRADBY – NA OBRÁZKU

ŠEVCOVSKÝ CECH

RENEŠANČNÍ ZÁMEK



5. Úkol – přemýšlej:

A Zkus odhadnout, zda byli s působením Pernštejnů více spokojeni obyvatelé města Meziříčí nebo městečka Krásna. Vysvětli svůj názor:

Spokojenější byli obyvatelé Meziříčí, protože z Krásna se stalo pouhé předměstí.

B S erbem Pernštejnů souvisí pověst. Podle obrázku zkus vysvětlit, jak vznikl erb rodu.



Cíl: Napsat co nejpodobněji tento text s využitím obrázku.

Podle pověsti byl praotcem rodu pánů z Pernštejna uhlíř jménem Věňava, do chaloupky mu chodil zubr a dělal mu velkou škodu. Uhlíř se rozhodl zubra zabít. Jednou, když na zubra narazil, protáhnul mu chřípím proutek a zkroceného zubra odvedl do města, kde sídlil král. Král ho poté odměnil.

Příloha číslo 3 Ukázky vyplněných pracovních listů

Žák 1

Příloha číslo 1 Pracovní list

1. Úkol – odpovězte na otázky:

- Rod Pernštejnů pochází

A) z Čech B) z Moravy C) ze Slezska

- Jan IV. z Pernštejna zastával funkci

A) purkrabího B) nejvyššího moravského hejtmána C) kastelána hradu Rožnov

- Jako reprezentační moravské sídlo si Jan IV. z Pernštejna zvolil

A) Prostějov B) Vsetín C) městečko Krásno

- Jan IV. z Pernštejna zažil významnou událost, která výrazně ovlivnila vývoj v českých zemích:

A) úmrtí jeho otce B) zboření hradu Rožnov C) nástup Habsburků na český trůn

- V textu jsou zmíněna tři sousední panství: krásensko-rožnovské, vsetínské a meziříčské.

Které z nich se stalo novým politickým a hospodářským centrem?

A) meziříčské B) vsetínské C) krásensko-rožnovské

2. Úkol - ANO/NE

Jan IV. z Pernštejna

Zdědil po otci Vilémovi celé pernštejnské dominium. **NE**

Osobně se účastnil tragické bitvy u Moháče. **NE**

Byl věrný katolík. **NE**

Významně se podílel na formování zemské hotovosti do boje proti Turkům. **ANO**

Rozhodnutí zemského sněmu o snížení úroků při půjčování peněz zhoršilo finanční obtíže Jana z Pernštejna. **ANO**

Zemřel v cizině na bojišti. **NE**

3. Úkol – najděte v následujícím textu 7 chyb:

Jan IV. z Pernštejna koupil roku 1534 panství vsetinské, rožnovsko-krásenské a tovačovské. Centrem panství byl původně zámek Rožnov, později hrad v Meziříčí. Bohatě zdobená kachlová kamna v sídle Žerotinů byla znakem bohatství a luxusu barokní doby. Pernštejnové ovlivnili i podobu centra města Meziříčí prosazováním výměny měšťanských domů za letní sídla. Prodej zdejšího panství kvůli zadlužení perštejnského majetku se nikdy neuskutečnil.

4. Úkol – přesmyčky a popis obrázku

V přesmyčkách se ukrývají tři slova, která souvisí s působením Pernštejnů na meziříčském panství. Který z těchto pojmů zobrazuje v mapce tvar zakreslený šedou linkou? Zakroužkujte ho.

DARHYB

COVEŠVKÝS CHEC

SANENERČÍN MÁKEZ

HRADBY

ŠEVCOVSKÝ CECH

RENEŠANČNÍ ZÁMEK



5. Úkol – přemýšlej:

A Zkus odhadnout, zda byli s působením Pernštejnů více spokojeni obyvatelé města Meziříčí nebo městečka Krásna. Vysvětli svůj názor.

BYLI SPOKOJENI VÍCE V MEZIRIČÍ, PROTOŽE KRÁSNO
BYLO PŘEDMĚSTÍ.

B S erbem Pernštejnů souvisí pověst. Podle obrázku zkus vysvětlit, jak vznikl erb rodu.



JEJICH PŘEDEK ZKOTIL ZUBRA, TAK MÁJÍ VE
ZNAKU ZUBRA S ŽELEZNÝM KOUHEM V NOZDRÁCH

Žák 2

Příloha číslo 1 Pracovní list

1. Úkol – odpovězte na otázky:

- Rod Pernštejnů pochází

A) z Čech (B) z Moravy C) ze Slezska

- Jan IV. z Pernštejna zastával funkci

A) purkrabího (B) nejvyššího moravského hejtmána C) kastelána hradu Rožnov

- Jako reprezentační moravské sídlo si Jan IV. z Pernštejna zvolil

(A) Prostějov B) Vsetín C) městečko Krásno

- Jan IV. z Pernštejna zažil významnou událost, která výrazně ovlivnila vývoj v českých zemích:

A) úmrtí jeho otce B) zboření hradu Rožnov (C) nástup Habsburků na český trůn

- V textu jsou zmíněna tři sousední panství: krásensko-rožnovské, vsetínské a meziříčské.

Které z nich se stalo novým politickým a hospodářským centrem?

(A) meziříčské B) vsetínské C) krásensko-rožnovské

2. Úkol - ANO/NE

Jan IV. z Pernštejna

Zdědil po otci Vilémovi celé pernštejnské dominium.

~~NE~~ ANO, ale až po smrti svého bratra

Osobně se účastnil tragické bitvy u Moháče.

NE

Byl věrný katolík.

NE

Významně se podílel na formování zemské hotovosti do boje proti Turkům.

ANO

Rozhodnutí zemského sněmu o snížení úroků při půjčování peněz zhoršilo finanční obtíže

Jana z Pernštejna.

ANO

Zemřel v cizině na bojišti.

NE

3. Úkol – najděte v následujícím textu 7 chyb:

Jan IV. z Pernštejna koupil roku 1534 panství vsetínské, rožnovsko-krásenské a ~~tovačovské~~.

Centrem panství byl původně zámek Rožnov, později ~~hrad~~-v Meziříčí. Bohatě zdobená kachlová kamna v sídle ~~Žerotinů~~ byla znakem bohatství a luxusu ~~barokní~~ doby. Pernštejnové

ovlivnili i podobu centra města Meziříčí prosazováním výměny ~~městanských domů~~ za letní sídla. Prodej zdejšího panství kvůli zadlužení pernštejnského majetku se ~~nikdy~~ neuskutečnil.

meziříčské ↑

zámek

renesanční

období

oděné domy

nikdy ne

4. Úkol – přesmyčky a popis obrázku

V přesmyčkách se ukrývají tři slova, která souvisí s působením Pernštejnů na meziříčském panství. Který z těchto pojmů zobrazuje v mapce tvar zakreslený šedou linkou? Zakroužkujte ho.

DARHYB

COVEŠVKÝS CHEC

SANENERČÍN MÁKEZ

HRADBY

ŠEVCOVSKÝ CECH

RENEŠANČNÍ ZÁMEK



5. Úkol – přemýšlej:

A Zkus odhadnout, zda byli s působením Pernštejnů více spokojeni obyvatelé města Meziříčí nebo městečka Krásna. Vysvětli svůj názor.

myslím si, že více spokojeni byli obyvatelé Meziříčí, protože Krásno se bralo jako předměstí. V Meziříčí se dokonce objevily nové domy a nový náměstí, přestavily i nové ulice.

B S erbem Pernštejnů souvisí pověst. Podle obrázku zkus vysvětlit, jak vznikl erb rodu.



Zakladatel rodu Pernštejnů zakradil zubra, mluví do nosu mu švihl proutek, proutek maji Pernštejnové se stali zubry a krasoborníci se nosi.

Příloha číslo 4 Obrázky



Obrázek 1 Rodový hrad Pernštejn rodu (Hrad Pernštejn, 2022)



Obrázek 2 Kolorovaný pískovcový reliéf s vyobrazením pověsti o vzniku erbu rodu Pernštejnů na portálu kostela sv. Bartoloměje v Pardubicích. (Vorel, 2021)

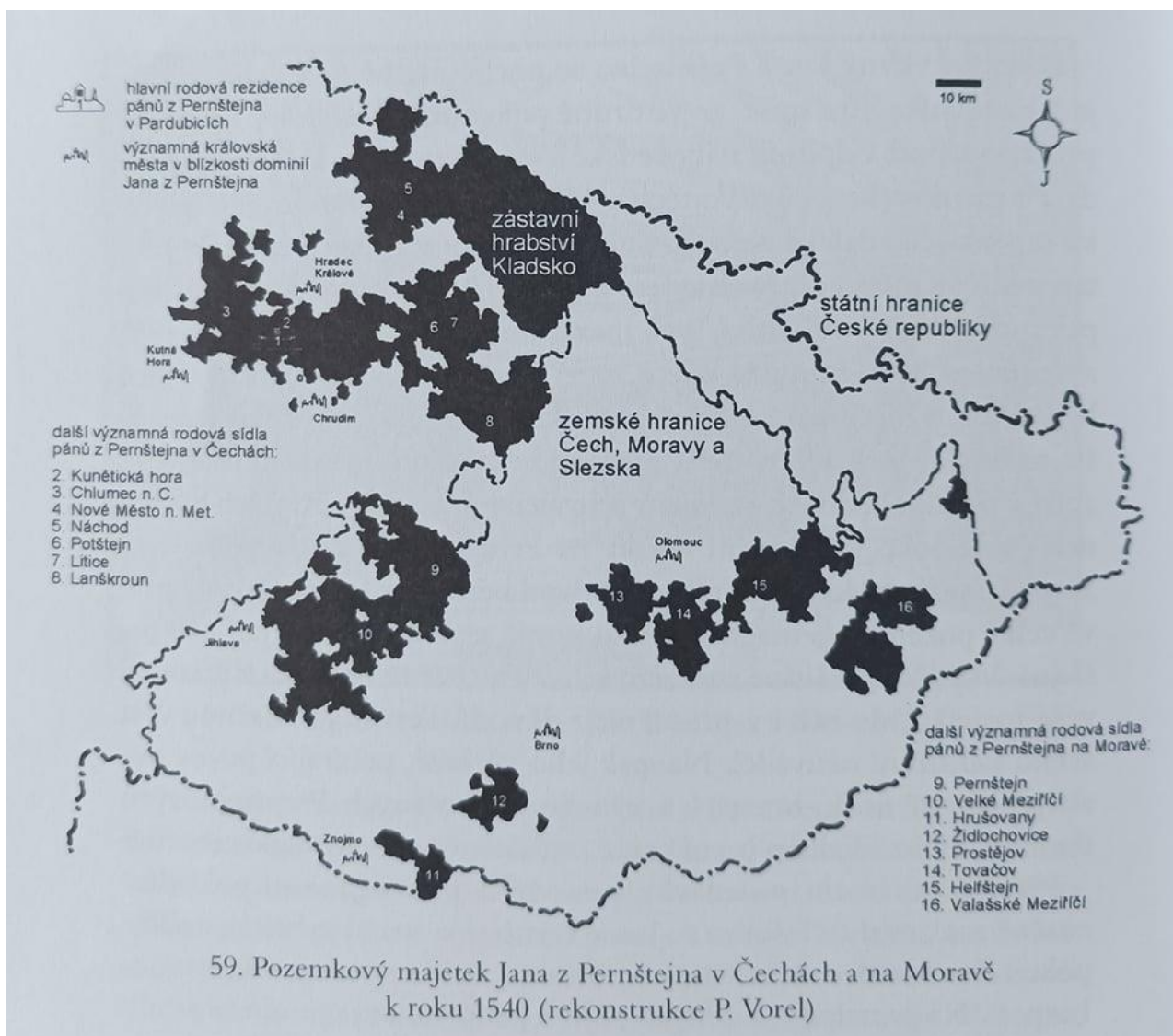


Obrázek 3 Dřevořez a olejomalba – dobové portréty Jana IV. z Pernštejna (Vorel, 2021)



56. Medaile Jana z Pernštejna z roku 1543 (mladší práce z 19. století)

Obrázek 4 Medaile Jana IV. z Pernštejna z roku 1543 (Vorel, 2021)



Obrázek 5 Pozemkový majetek Jana IV. z Pernštejna v Čechách a na Moravě k roku 1540 (Vorel, 2021)



Obrázek 6 Tolar a dukát Jana IV. z Pernštejna. Jan měl v letech 1537–1548 v zástavě kladské hrabství, což posilovalo jeho prestiž a zajišťovalo mu právo razit mince: stříbrné toлары a zlaté dukáty. (Vorel, 2021)



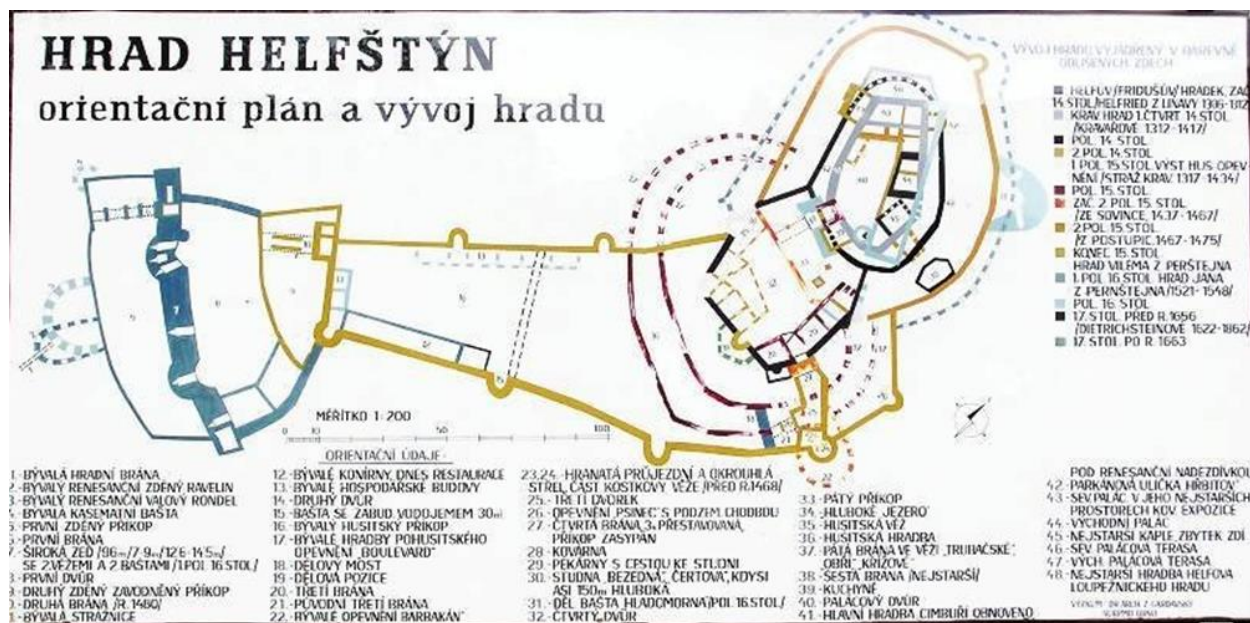
Obrázek 6 Zámek Tovačov (Zámek Tovačov, 2022)




Obrázek 7 Zámek v Prostějově na Pernštýnském náměstí (Zámek Prostějov, 2022)



Obrázek 8 Hrad Helfštýn (Helfenštejn) – významné sídlo Pernštejnů na Moravě. Po prodeji meziříčského panství Žerotinům sem bylo přestěhováno vybavení zámku. Podle názoru historiků lze z inventáře soudit, že zámek byl za Pernštejnů spíše loveckým nežli trvalým reprezentačním sídlem. (foto autor)



Obrázek 9 Půdorys hradu Helfštýn (Hrad Helfštýn, 2022)




Obrázek 10 Hrad Rožnov – jeho možná podoba na počátku 16. století. (foto: autor 2022, expozice v zámku Žerotínů)



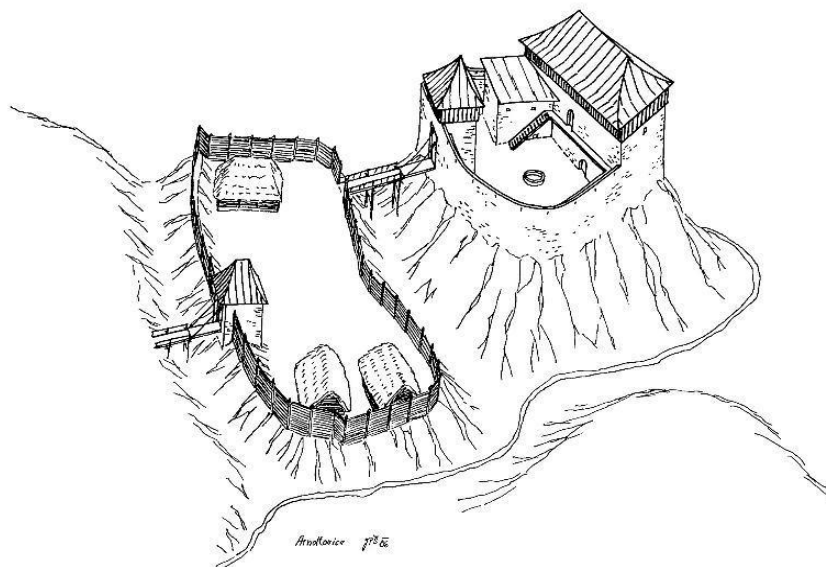
Obrázek 11 Pozůstatky hradu Rožnov (foto autor)



Obrázek 12 Fragменты кachlových kamen s barevnou glazurou (foto: autor 2022, expozice zámku Žerotínů)



Obrázek 16 Úlomky užitkové keramiky, dokládající obraz každodenního života na středověkém hradě – hrad Rožnov (foto: autor 2022, expozice zámku Žerotínů)



Obrázek 15 Půdorys hradu Arnoltovice – původní centrum meziříčského panství, na dnešním území obce Poličná. Materiál z chátrajícího hradu byl použit při výstavbě meziříčských hradeb v letech 1538-1559. (Hrad Arnoltovice, 2022)



Obrázek 13 Mapa městských hradeb, které se začaly stavět za působení Jana IV. z Pernštejna v Meziríčí. Jejich součástí byly tři brány: krásenská, poličenská a rožnovská. (foto: autor 2022, expozice zámku Žerotínů)



Obrázek 15 Model zámku v Mezirůči po barokní přestavbě v 1. polovině 18. století (foto autor, expozice zámku Žerotínů)



Obrázek 14 Poslední zbytek meziřůčských hradeb zachovaný v budově jižního křídla zámku Žerotínů (foto autor)



Obrázek 16 Měšťanský dům v Křížkovského ulici ve Valašském Meziříčí, jehož předsazené průčelí by mohlo být dokladem toho, že někteří méně zámožní měšťané byli původně schopni vybudovat pouze zděnou fasádu a zbytek objektu zatím zůstal dřevěný. (foto: autor 2022)